



ΓΡΑΠΤΕΣ ΠΡΟΑΓΩΓΙΚΕΣ ΕΞΕΤΑΣΕΙΣ ΜΑΪΟΥ - ΙΟΥΝΙΟΥ 2018
ΜΕΣΗΣ ΤΕΧΝΙΚΗΣ ΚΑΙ ΕΠΑΓΓΕΛΜΑΤΙΚΗΣ ΕΚΠΑΙΔΕΥΣΗΣ

ΟΝΟΜΑΤΕΠΩΝΥΜΟ ΜΑΘΗΤΗ/ΤΡΙΑΣ:

.....

ΒΑΘΜΟΣ :/20 ΥΠΟΓΡΑΦΗ:

Επιτρεπόμενη διάρκεια γραπτού 2 ώρες (120 λεπτά).

Μάθημα: ΣΧΕΔΙΑΣΤΙΚΕΣ ΕΦΑΡΜΟΓΕΣ ΣΤΗ ΔΙΑΚΟΣΜΗΣΗ
ΕΣΩΤΕΡΙΚΟΥ ΧΩΡΟΥ

Τάξη: Α-ΕΔ

Ημερομηνία Εξέτασης: 25/05/2018

Ώρα : 8:00 - 10:00

ΤΟ ΕΞΕΤΑΣΤΙΚΟ ΔΟΚΙΜΙΟ ΑΠΟΤΕΛΕΙΤΑΙ ΑΠΟ 7 (επτά) ΣΕΛΙΔΕΣ

(συμπεριλαμβανομένου του εξωφύλλου)

1. ΑΠΑΓΟΡΕΥΕΑΙ Η ΕΞΟΔΟΣ ΑΠΟ ΤΗΝ ΤΑΞΗ ΠΡΙΝ ΤΗΝ ΠΑΡΕΛΕΥΣΗ 30 ΛΕΠΤΩΝ ΑΠΟ ΤΗΝ ΕΝΑΡΞΗ ΤΗΣ ΕΞΕΤΑΣΗΣ
2. ΤΟ ΕΞΕΤΑΣΤΙΚΟ ΔΟΚΙΜΙΟ ΑΠΟΤΕΛΕΙΤΑΙ ΑΠΟ **ΔΥΟ ΜΕΡΗ (Α' και Β')**
3. ΤΟ ΚΙΝΗΤΟ ΣΤΗΝ ΑΙΘΟΥΣΑ ΕΞΕΤΑΣΗΣ ΘΕΩΡΗΤΑΙ ΔΟΛΙΕΥΣΗ
4. ΝΑ ΤΗΡΗΣΕΤΕ ΤΟΥΣ ΚΑΝΟΝΕΣ ΚΑΛΗΣ ΣΧΕΔΙΑΣΗΣ
5. ΝΑ ΑΠΑΝΤΗΣΕΤΕ ΣΕ ΟΛΕΣ ΤΙΣ ΕΡΩΤΗΣΕΙΣ ΣΤΟ ΕΞΕΤΑΣΤΙΚΟ ΔΟΚΙΜΙΟ
6. ΑΠΑΓΟΡΕΥΕΤΑΙ Η ΧΡΗΣΗ ΔΙΟΡΘΩΤΙΚΟΥ
7. ΝΑ ΠΡΟΣΕΞΕΤΕ ΤΗΝ ΠΟΙΟΤΗΤΑ ΤΗΣ ΕΡΓΑΣΙΑΣ ΣΑΣ

ΚΑΛΗ ΕΠΙΤΥΧΙΑ

ΜΕΡΟΣ Α΄ (Μονάδες 16)

1. Να δώσετε τον **ορισμό της Διακοσμητικής** εσωτερικού χώρου. (Μονάδα 1)

.....
.....
.....

2. Να αναφέρετε **τέσσερις (4) προϋποθέσεις** για μια επιτυχημένη διακόσμηση ενός εσωτερικού χώρου. (Μονάδες 1)

α.....
β.....
γ.....
δ.....

3. Να σημειώστε τους **τομείς της διακοσμητικής** στους οποίους ανήκουν οι πιο κάτω χώροι. (Μονάδες 1,5)

Κήπος σπιτιού
Εκθεσιακός χώρος
Διαμέρισμα
Πισίνα ξενοδοχείου
Κατάστημα ρουχισμού

4. Να κατονομάσετε **τρία (3) παραδείγματα καλών** και **τρία (3) εφαρμοσμένων** τεχνών. (Μονάδες 1,5)

ΚΑΛΕΣ ΤΕΧΝΕΣ	ΕΦΑΡΜΟΣΜΕΝΕΣ ΤΕΧΝΕΣ
α.	α.
β.	β.
γ.	γ.

5. Να τοποθετήσετε τα πιο κάτω υλικά στην αντίστοιχη στήλη. (Μονάδες 2)

Ξύλο, καουτσούκ, γυαλί, τεχνητός γρανίτης, μάρμαρο, μπαμπού, πλακάξ μελαμίνης, πλαστικό.

ΦΥΣΙΚΑ ΥΛΙΚΑ	ΤΕΧΝΗΤΑ ΥΛΙΚΑ

6. Να αναφέρετε **δύο (2)** προϋποθέσεις που πρέπει να πληρεί ένα έπιπλο.

(Μονάδα 1)

α.....

β.....

7.α. Να εξηγήσετε τι είναι τα **λειτουργικά** και τι τα **συμπληρωματικά** στοιχεία του εσωτερικού χώρου. (Μονάδα 1)

Λειτουργικά στοιχεία:.....

.....

.....

Συμπληρωματικά στοιχεία:.....

.....

.....

β. Να αναφέρετε **δύο (2) λειτουργικά** και **δύο (2) συμπληρωματικά στοιχεία** ενός καθιστικού χώρου. (Μονάδα 1)

ΛΕΙΤΟΥΡΓΙΚΑ ΣΤΟΙΧΕΙΑ	ΣΥΜΠΛΗΡΩΜΑΤΙΚΑ ΣΤΟΙΧΕΙΑ
α.	α.
β.	β.

8. Να σημειώσετε **ΟΡΘΟ** ή **ΛΑΘΟΣ**. (Μονάδες 2)

	ΟΡΘΟ	ΛΑΘΟΣ
Ένας εσωτερικός χώρος πρέπει να σχεδιάζεται με βάση τις ανθρωπομετρικές διαστάσεις.		
Οι δύο κατηγορίες επίπλων είναι τα εντοιχισμένα και τα κινητά / ελεύθερα.		
Η βιτρίνα ενός καταστήματος αποτελεί εκθεσιακό χώρο.		
Το μωβ είναι ψυχρό χρώμα.		
Το εντοιχισμένο έπιπλο είναι αυτό, το οποίο μπορούμε να μετακινούμε μέσα στο χώρο.		
Το γκριζο είναι άχρωμο χρώμα.		
Τα τρία βασικά χρώματα είναι το μπλε, το κόκκινο και το πράσινο.		
Το συμπληρωματικό χρώμα του μπλε είναι το πορτοκαλί.		

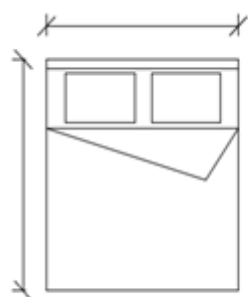
9. Να αναφέρετε **δύο (2) παράγοντες** που λαμβάνονται υπόψη κατά το σχεδιασμό ενός υπνοδωματίου. (Μονάδα 1)

α.....

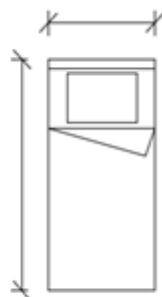
β.....

10. Να σημειώσετε τις τυπικές διαστάσεις στις πιο κάτω κατόψεις κρεβατιών.

(Μονάδες 1)



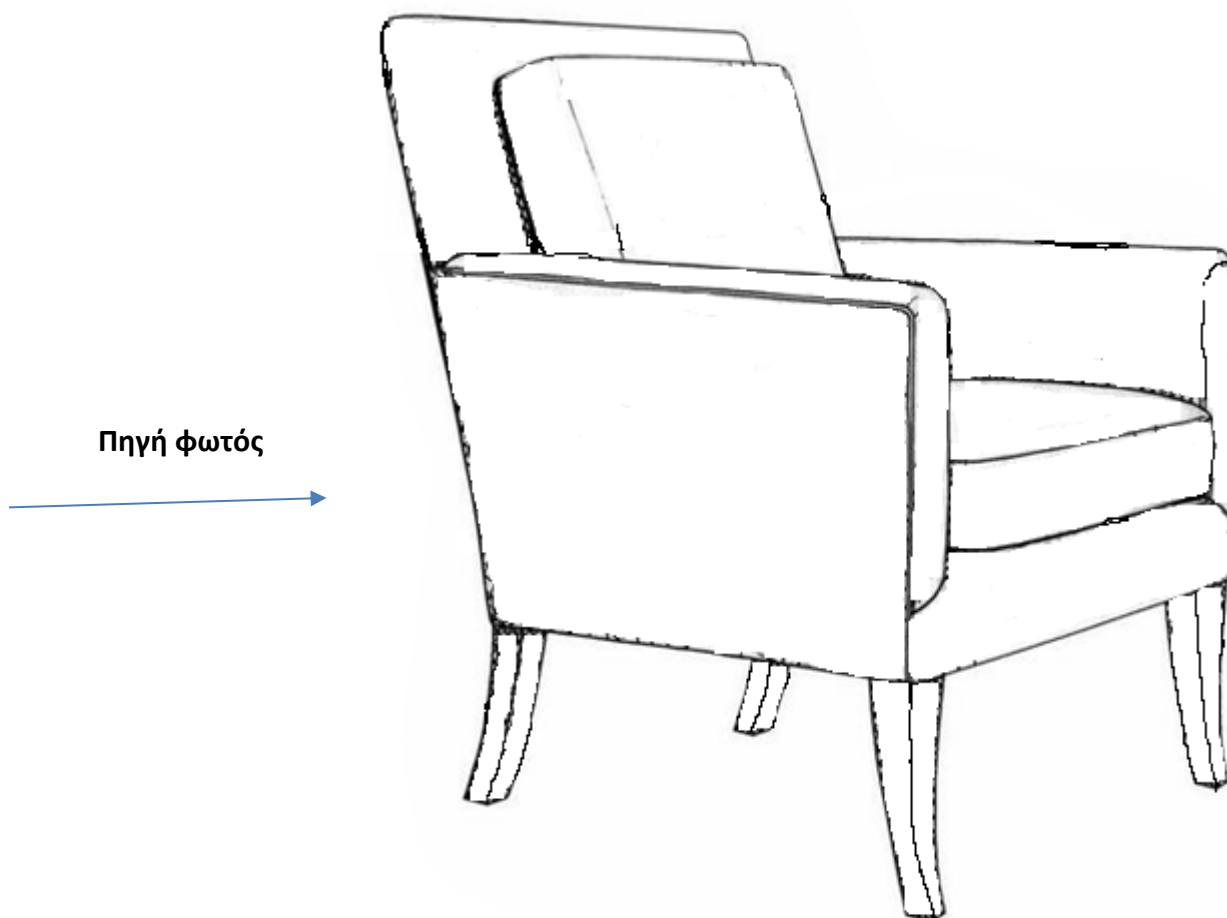
Διπλό κρεβάτι



Μονό κρεβάτι

11. Να χρωματίσετε με χρώμα της δικής σας επιλογής το προοπτικό σχέδιο του επίπλου αποδίδοντας με φωτοσκίαση τον όγκο του.

(Μονάδες 2)



ΜΕΡΟΣ Β' (Μονάδες 4)

Σας δίνεται η πιο κάτω κάτοψη καθιστικού μικρής κατοικίας τεσσάρων ατόμων. Σας ζητείται:

α. Να σχεδιάσετε στην κάτοψη τη διαρρύθμιση των επίπλων σε κλίμακα 1:50 και το δάπεδο της επιλογής σας.

β. Να εφαρμόσετε χρώμα και φωτοσκίαση στο σχέδιο σας.

Σημ.: Ο σχεδιασμός στην κάτοψη να γίνει στο φύλλο εργασίας Α3 που σας δίνεται.

ΟΙ ΕΙΣΗΓΗΤΕΣ

Ο ΣΥΝΤΟΝΙΣΤΗΣ Β.Δ.

Ο ΔΙΕΥΘΥΝΤΗΣ

.....

Κωνσταντία Ψάλτη

.....

Αντρέας Χριστοδούλου

.....

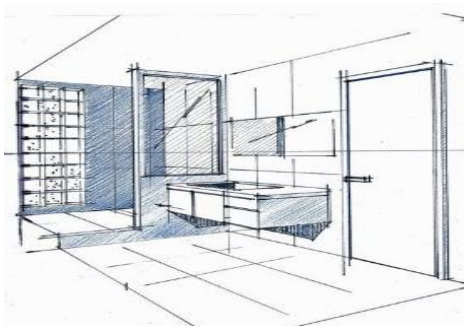
Θεόδωρος Ηλία

.....

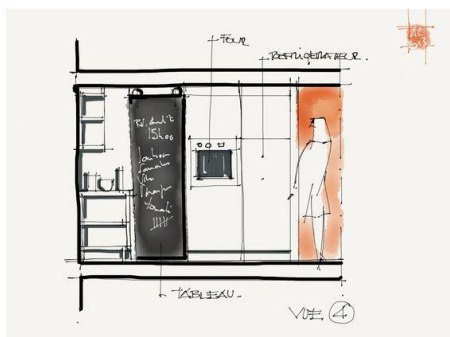
Πρόδρομος Πολάτογλου

14). Να διαγράψετε ότι δεν ισχύει.

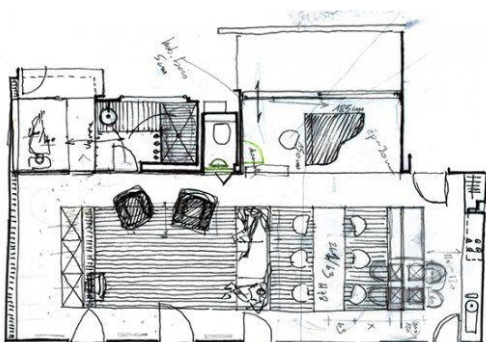
(Μονάδες 2)



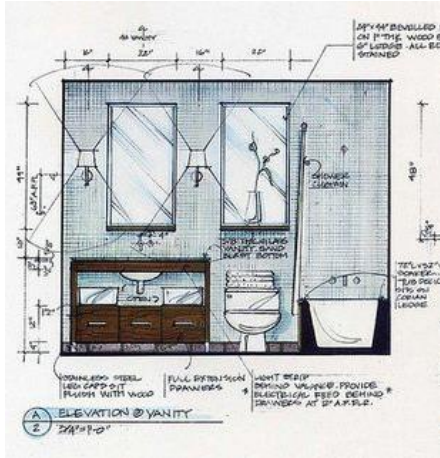
Προοπτικό/ Κάτοψη/ Όψη



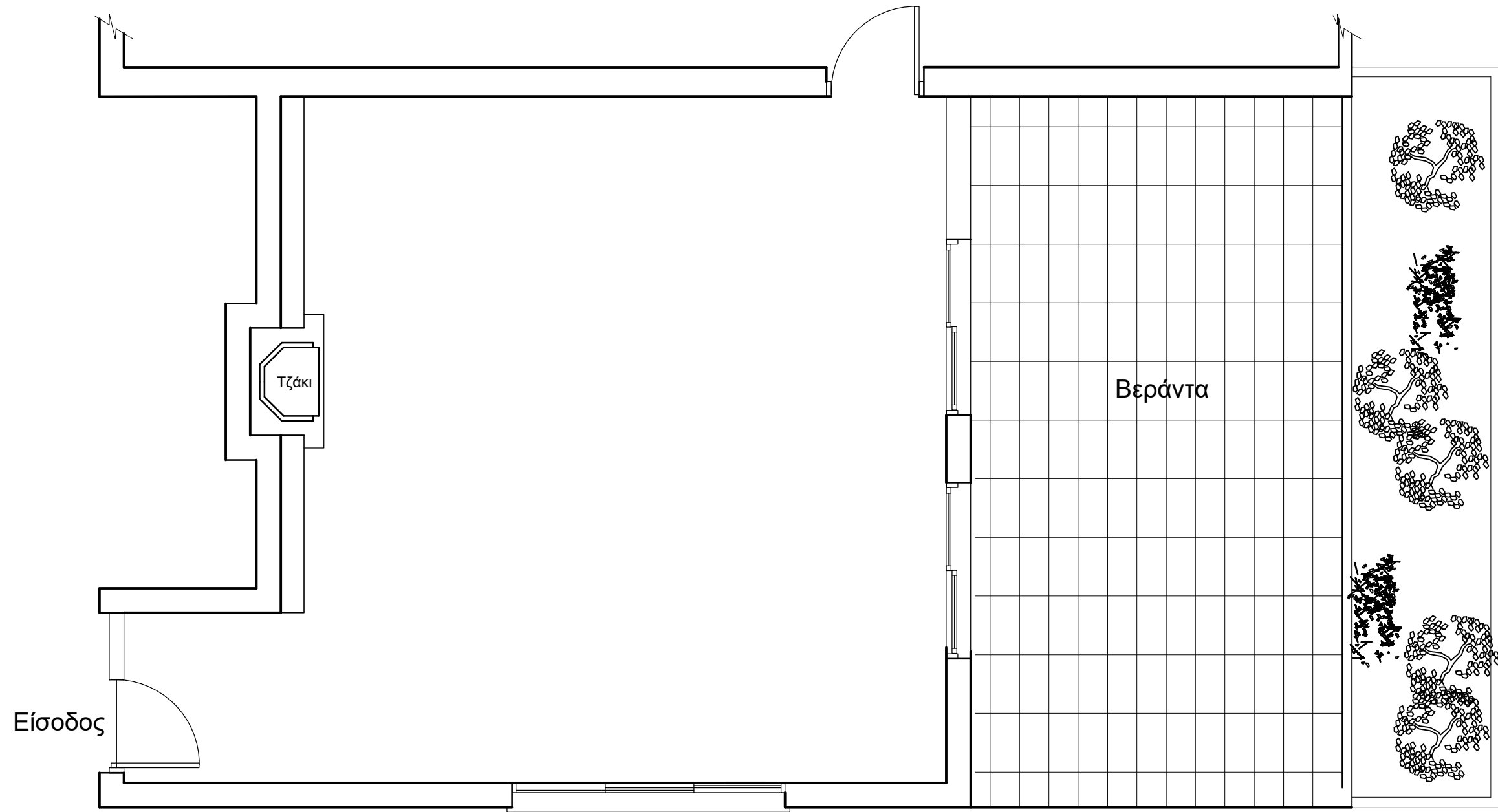
Προοπτικό/ Κάτοψη/ Όψη



Προοπτικό/ Κάτοψη/ Όψη



Προοπτικό/ Κάτοψη/ Όψη



Κάτοψη καθιστικού

ΤΕΧΝΙΚΗ ΣΧΟΛΗ ΠΑΦΟΥ

Ημερ.:

ΘΕΜΑ:

Κλίμακα

ΟΝΟΜΑ:

Τάξη: