



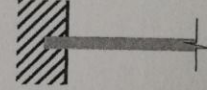
4. Να κατονομάσετε τα είδη των στηρίξεων που φαίνονται πιο κάτω και να αναφέρετε πόσους βαθμούς ελευθερίας δεσμεύει η καθεμία.



.....
()

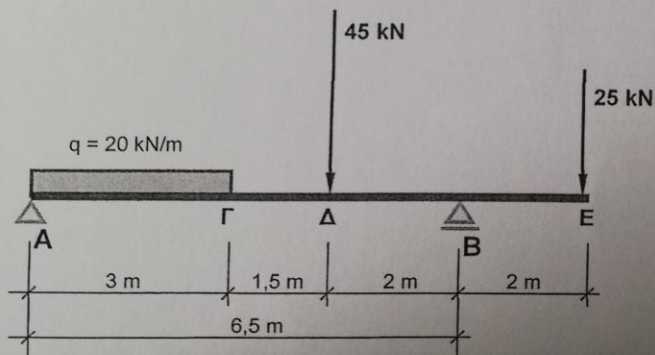


.....
()



.....
()

5. Για τη δοκό που φαίνεται πιο κάτω να υπολογίσετε τις αντιδράσεις R_A και R_B και να ελέγξετε την ορθότητα των αποτελεσμάτων, χρησιμοποιώντας διαφορετική συνθήκη ισορροπίας.



.....

